

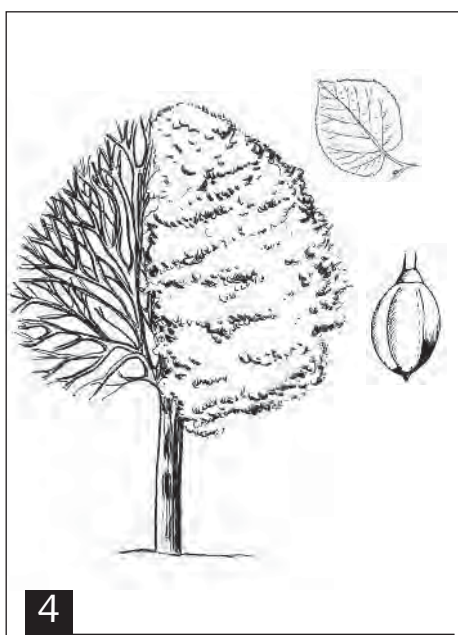


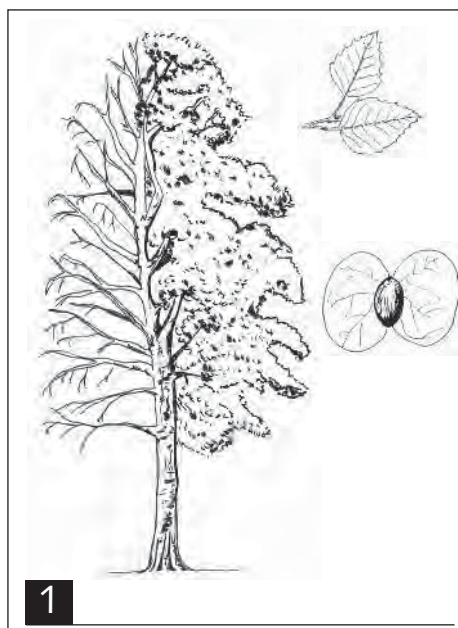


# RECONNAÎTRE DEUX GRANDS TYPES D'ARBRES

Ces illustrations  
représentent pour chaque  
arbre, sa silhouette en  
hiver et en été, sa feuille  
et son fruit.



# RECONNAÎTRE DEUX GRANDS TYPES D'ARBRES



1- Ecris le nom de chaque arbre que tu penses reconnaître à côté de son numéro.

2- Quels sont les principaux critères qui permettent de reconnaître un arbre ?

---

---

---

3- Ces 8 spécimens d'arbres sont des représentants de deux grandes familles. Lesquelles ?

---

---

4- Classe les 8 arbres dans la famille à laquelle ils appartiennent, puis liste les caractéristiques de chaque famille.

Famille 1 : les <input type="text"/>	Famille 2 : les <input type="text"/>
Caractéristiques :	Caractéristiques :